



## Guía de apoyo de matemática

Semana 10 al 14 Agosto.

Nombre: \_\_\_\_\_ Curso: 4° básico.

**Objetivo:** Demostrar e identificar las fracciones a través de lo pictórico y simbólico.

I.- Representa las siguientes fracciones que vienen a continuación:

A.-

$$\frac{4}{6}$$



B.-

$$\frac{9}{12}$$



C.-

$$\frac{6}{10}$$



D.-

$$\frac{4}{7}$$



E.-

$$\frac{3}{8}$$



F.-

$$\frac{3}{9}$$



II.- Une con una línea la fracción que corresponda:

Cinco doceavo

Tres noveno

Ocho cuarto

Doce quintos

$$\frac{12}{5}$$

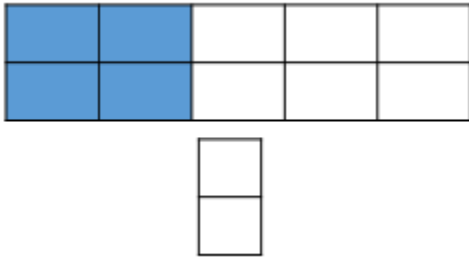
$$\frac{3}{9}$$

$$\frac{5}{12}$$

$$\frac{8}{4}$$

III.- Escribe la fracción que representa lo pintado en las siguientes figuras:

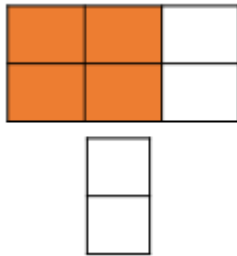
A.-



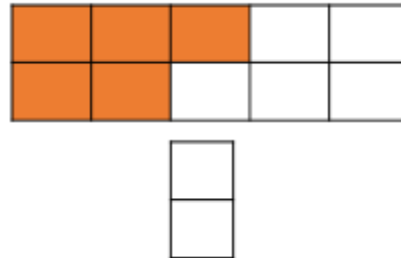
B.-



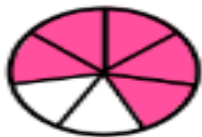
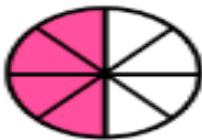
C.-



D.-



IV.- Une con una línea la fracción que corresponda:



$$\frac{4}{6}$$

$$\frac{4}{7}$$

$$\frac{5}{7}$$

$$\frac{4}{8}$$

$$\frac{5}{8}$$

$$\frac{5}{6}$$